





Activité




1. Voici la répartition des élèves d'une classe de 5^e :

	Demi-pensionnaires	Externes	Total
Garçons	10	5	15
Filles	8	4	12
Total	18	9	27

a. Quel est le nombre d'élèves de cette classe ?
b. Combien de filles de cette classe mangent à la cantine ?
c. Dans cette classe, combien de garçons sont externes ?

2. Voici les résultats d'une élection municipale :



• Qui a été élu ?

