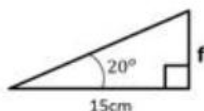
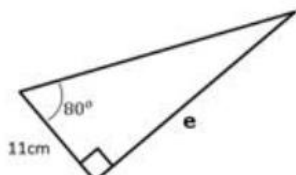
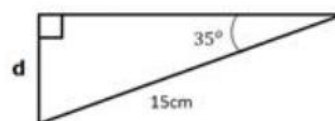
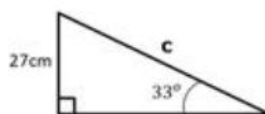
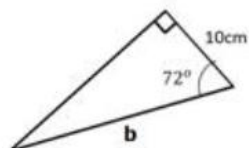
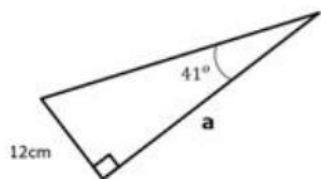


# MESSAGE SECRET



Calcule les longueurs manquantes dans chaque triangle. Le résultat sera arrondi au dixième.



Tu découvriras le nom d'un célèbre mathématicien qui a introduit les premières formules de trigonométrie.

O	E	U	R	P	T	M	D	S	L
5,5	49,6	5,4	32,3	13,8	62,4	8,6	62,3	14,7	32,4

Réponse

\_\_\_\_\_

a

e

f

b

c

d

c

c